



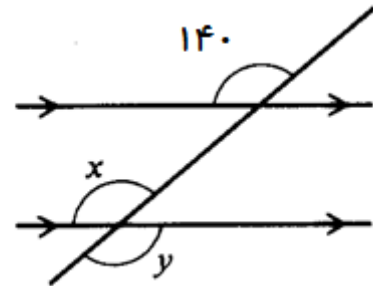
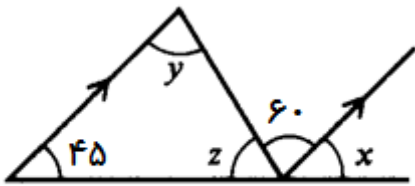
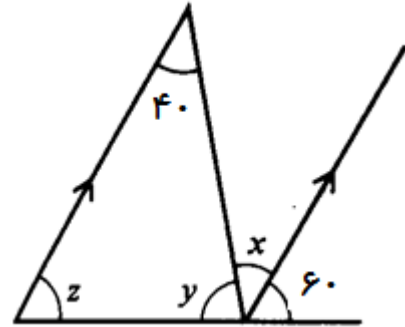
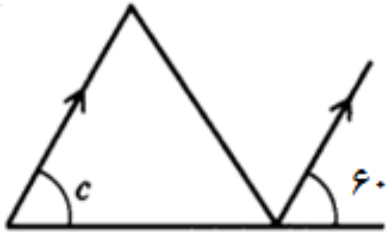
((به نام خدا))

کاربرگ ریاضیات

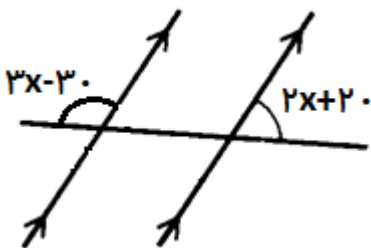
پایه هشتم - توازی و تعامد

نام و نام خانوادگی :

۱- در هر یک از شکل‌های زیر اندازه زاویه های مجهول را به دست آورید. (زاویه های C و X و Y و Z)



۲- مقدار X را پیدا کنید. (معادله تشکیل دهید)



۳- اگر $a \parallel b$ و $b \parallel c$. آنگاه چه نتیجه ای می توانید بگیرید. با رسم شکل نشان دهید.

۴- دو خط عمود بر یک خط، خود باهم هستند

۵- در شکل زیر $a \parallel b$ است. اندازه X را به دست آورید.

